



**Επιτροπή Διαγωνισμού του περιοδικού «Ο μικρός Ευκλείδης»
9^{ος} Πανελλήνιος Μαθητικός Διαγωνισμός «Παιχνίδι και Μαθηματικά»**

6-3-2015

Για μαθητές της Ε΄ Τάξης Δημοτικού

Όνοματεπώνυμο:	Βαθμός	
..... Δημοτικό Σχολείο	Τάξη/Τμήμα	

ΘΕΜΑ 1^ο

Ποιος από τους παρακάτω αριθμούς έχει ακριβώς 33 εκατοντάδες και 24 μονάδες;
(Κυκλώνω το σωστό)

- A) 330057 B) 3057 Γ) 3324 Δ) 3524 E) 33024

ΘΕΜΑ 2^ο

Αντιστοιχίζω έναν αριθμό της πρώτης σειράς με έναν αριθμό της δεύτερης, έτσι ώστε τα ζευγάρια αριθμών που σχηματίζονται να έχουν άθροισμα 1.

0,03	0,003	0,3	0,13	0,31
------	-------	-----	------	------

0,7	0,997	0,97	0,69	0,87
-----	-------	------	------	------

ΘΕΜΑ 3^ο

Για μια βόλτα με το τρενάκι του Λούνα Παρκ περιμένουν 78 παιδιά. Σε κάθε γύρο του μπαίνουν 8 παιδιά. Πόσα παιδιά θα μπουν στον τελευταίο γύρο που θα κάνει το τρενάκι, αν κάθε παιδί μπαίνει μόνο μια φορά;

Λύση

Απάντηση:.....

ΘΕΜΑ 4^ο

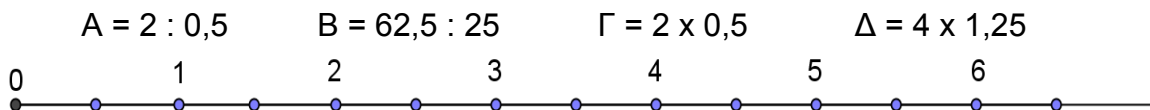
Για να βάψουν ένα τοίχο της αυλής του σχολείου σε χρώμα θαλασσί, οι μαθητές θα πρέπει να ανακατέψουν μπλε και άσπρο χρώμα. Σύμφωνα με τις οδηγίες για τρία ίδια κουτιά άσπρο χρώμα, του ενός κιλού το καθένα, χρειάζονται 15 σταγόνες μπλε χρώμα. Αν χρησιμοποιήσουν 6 ίδια κουτιά άσπρο χρώμα, των δύο κιλών το καθένα, πόσες σταγόνες μπλε χρώμα θα χρειαστούν;

Λύση

Απάντηση:.....


ΘΕΜΑ 5^ο

Κάνω τις πράξεις και τοποθετώ κάθε γράμμα στο κάτω μέρος της αριθμογραμμής στη σωστή θέση.



ΘΕΜΑ 6°

Να σχεδιάσετε το 3° στοιχείο του παρακάτω μοτίβου και να γράψετε από πόσα αστέρια αποτελείται.



Απάντηση:

ΘΕΜΑ 7°

Οι μαθητές της Ε΄ τάξης ενός δημοτικού σχολείου είναι περισσότεροι από 19 και λιγότεροι από 31. Όταν σχηματίσουν τετράδες ή τριάδες περισσεύουν 2. Πόσοι είναι οι μαθητές της τάξης;

Λύση

Απάντηση:

ΘΕΜΑ 8°

Μια κατσίκα δίνει την ημέρα 1,5 λ. γάλα όταν τρώει ξερά χόρτα και 1,8 λ. όταν τρώει χλωρά. Πόσα λίτρα γάλα δίνει σε 20 ημέρες, αν κατά τη διάρκειά τους τρώει τη μια μέρα ξερά χόρτα και την άλλη χλωρά;



Λύση

Απάντηση:



ΘΕΜΑ 9°

Ένα καλάθι έχει μαργαρίτες και τριαντάφυλλα. Οι μαργαρίτες είναι τα $\frac{5}{8}$ των λουλουδιών του καλάθιού και 8 περισσότερες από τα τριαντάφυλλα. Πόσα είναι τα λουλούδια του καλάθιού;

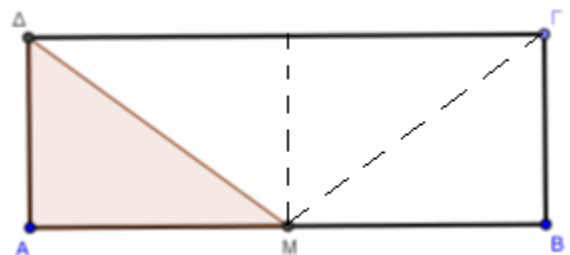
Λύση

Απάντηση:

ΘΕΜΑ 10°

Αν η χρωματισμένη επιφάνεια του ορθογώνιου παραλληλόγραμμου ΑΒΓΔ έχει εμβαδόν 6 τ.εκ. και Μ είναι το μέσο της πλευράς του ΑΒ, πόσο είναι το εμβαδόν του;

Λύση



Απάντηση:

Καλή Επιτυχία !